

Nombre: ..... Fecha: ..... Curso: .....

## 1. Completa las mutliplicaciones.

$3 \times 5 =$

$6 \times 1 =$

$4 \times 10 = \dots\dots\dots$

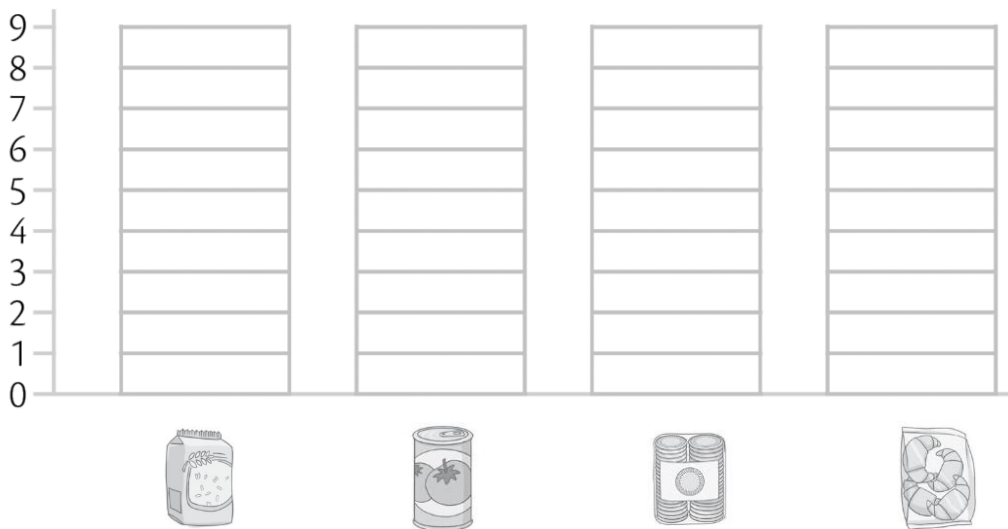
$2 \times 4 =$

$9 \times 8 =$


$7 \times 5 =$

## 2. Observa lo que hay en una despensa y completa el gráfico de barras.

- Arroz: 6 paquetes
- Galletas: 4 paquetes
- Tomate: 8 latas
- Croissants: 3 bolsas




## 3. Utiliza una regla y dibuja un retrato de ti mismo utilizando únicamente figuras planas.





Nombre: ..... Fecha: ..... Curso: .....

4. ¡Marta está muy emocionada! A las 13:30 h empieza el torneo de fútbol infantil de la ciudad y ella participa con su equipo.



- Si el torneo dura 4 horas y cuarto, ¿a qué hora termina? Dibújalo en los relojes.



- En el torneo participan 8 equipos y cada equipo tiene 7 jugadoras. ¿Cuántas jugadoras participan en el torneo?




- Irene ha marcado 3 goles y Marisa el doble. ¿Cuántos goles ha marcado Marisa?

Nombre: ..... Fecha: ..... Curso: .....



Two horizontal rectangular boxes stacked vertically, intended for writing answers.