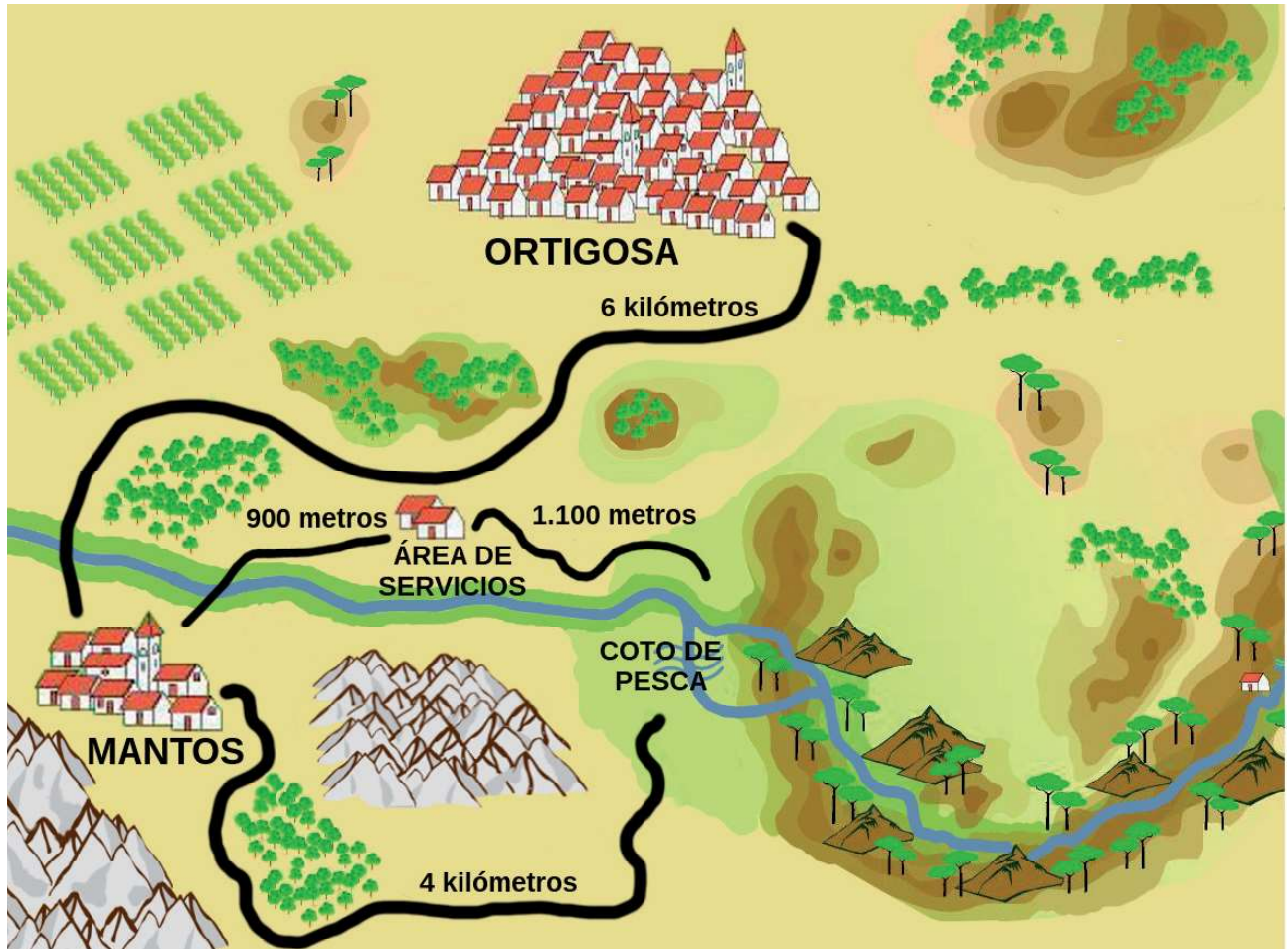


PREGUNTA 9

Fijate en el plano:



El pueblo donde vivimos se llama Mantos.

El camino que cogemos mi abuelo y yo para ir de pesca pasa por un área de servicios con gasolinera, restaurante y hotel.

Completa las siguientes frases:

- A) Desde Mantos hasta el área de servicios hay _____ metros.
- B) Hay _____ metros desde el área de servicios hasta el coto de pesca.
- C) Si voy por el camino que va desde Mantos al coto de pesca sin pasar por el área de servicios recorro _____ kilómetros.
- D) Mi madre va en coche desde Mantos a comprar aceite a Ortigosa.
Recorre _____ kilómetros a la ida.



PREGUNTA 10

Fijate en la señal que me encontré cuando fui de pesca con mi abuelo Pepe.



Busca un triángulo y coloréalo de azul.

Busca un cuadrado y coloréalo de verde.

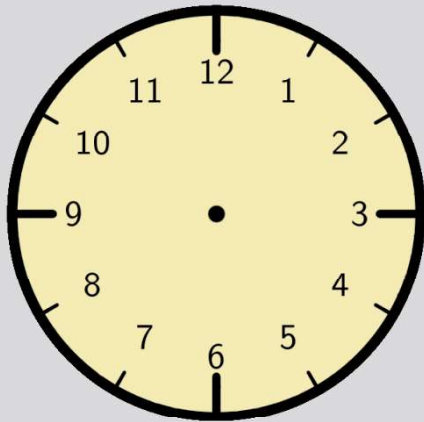
Busca un círculo y coloréalo de naranja.

Busca un rectángulo y coloréalo de rojo.

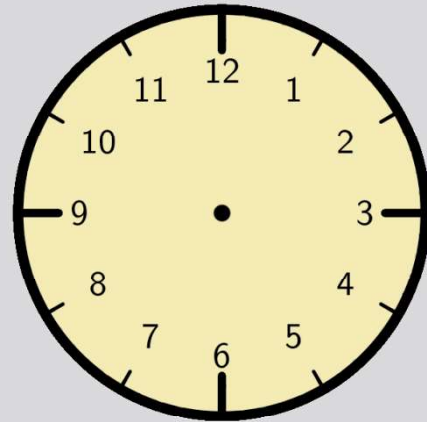


PREGUNTA 11

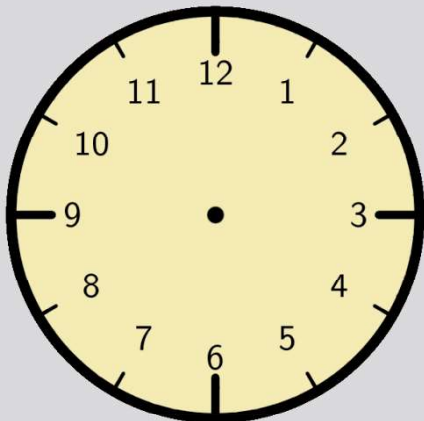
Representa las horas en los siguientes relojes:



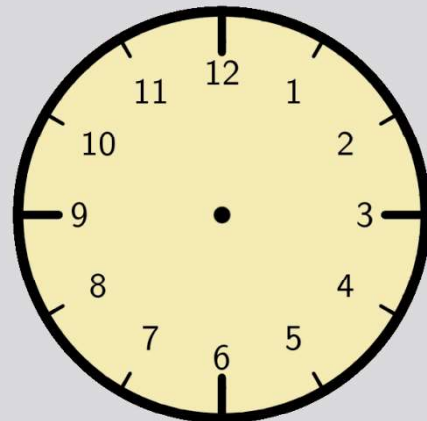
Salimos de casa a las diez en punto de la mañana.



Llegamos al río a las diez y media de la mañana.



A la una y media recogimos y luego salimos para casa.



Llegamos a casa a las dos y cuarto de la tarde.

